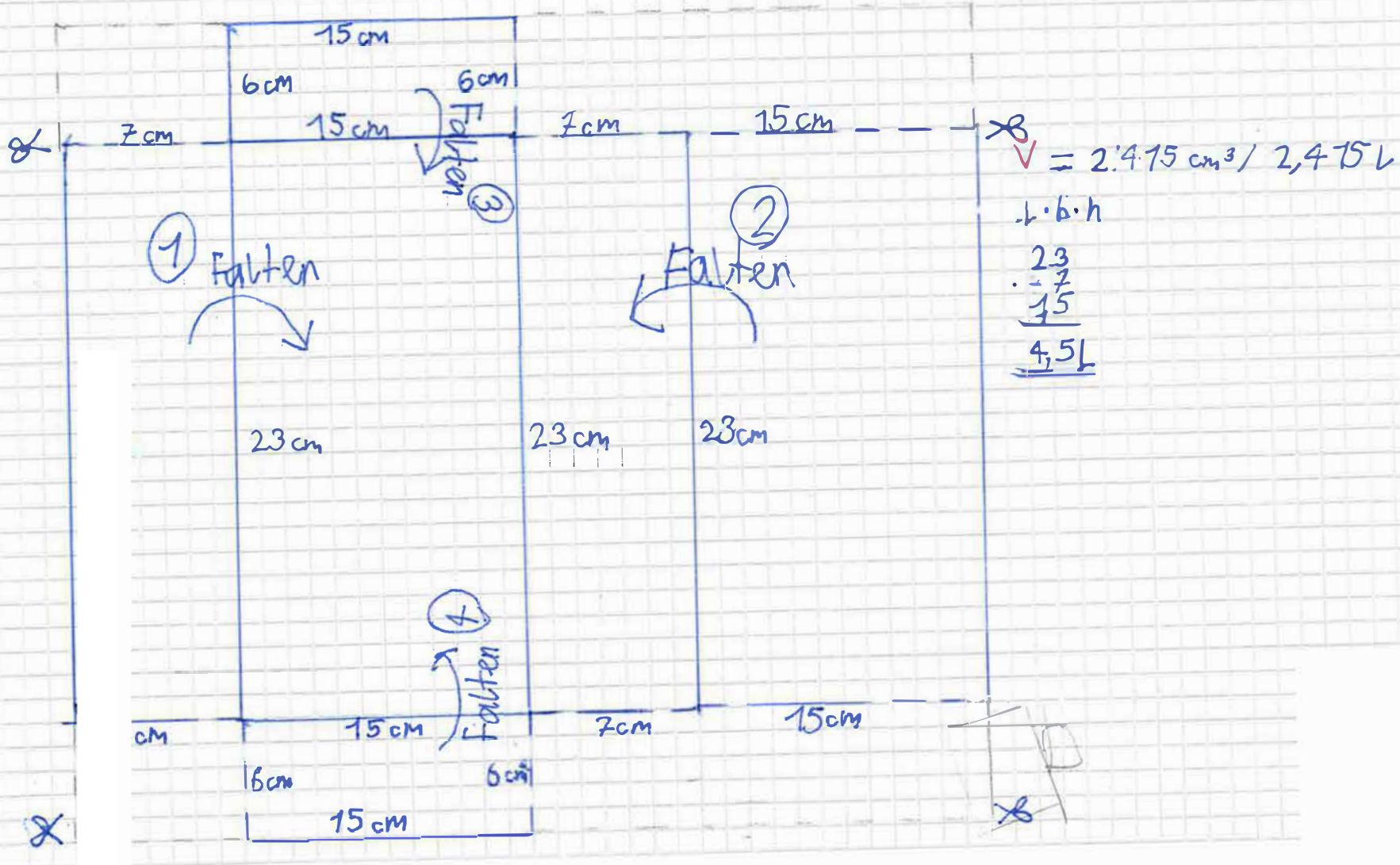


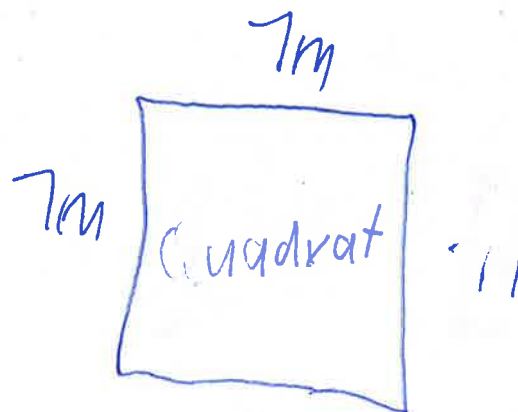
5

Eine Skala : drauf schreiben

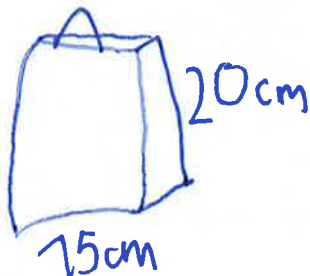


$$20 \cdot 20 \cdot 77 = 6'800 \text{ cm}^3$$

$$L \cdot M \cdot H =$$



Welches Volumen  $7m$  passt rein?  
Mit was macht man die Tasche  
Wie faltet man die Tasche  
Wie rechnet man es um



19/70

# Checkliste für das Peer-Feedback

Partnerfeedback von

	Tasche	Anleitung	Berechnungen
Das habt ihr gut gemacht.	Ihr habt die Tasche gut gefaltet.	Die Anleitung ist ausführlich und man versteht es gut.	Es ist übersichtlich und korrekt
Da stimmt etwas nicht.	Es ist optisch nicht so schön		
Das verstehen wir nicht.			

Lgt 6c

### Checkliste für das Peer-Feedback

Partnerfeedback von \_\_\_\_

	Tasche	Anleitung	Berechnungen
Das habt ihr gut gemacht.	Ihr habt die Skalierung gut gemacht.	Ihr habt gut erklärt wie, ihr es gefalltet habt.	Ich komme mit den Berechnungen klar.
Da stimmt etwas nicht.	Es ist nicht so gut gefalltet.	Die Beschriftungen mehrmals gleich geschrieben.	Nicht so deutlich hingeschrieben.
Das verstehen wir nicht.			